



**PREFEITURA MUNICIPAL DE JARU – SECRETARIA MUNICIPAL DE
ADMINISTRAÇÃO, PLANEJAMENTO E FAZENDA**

MOTORISTA DE VEÍCULO LEVE

Código da Prova

C06 V
TARDE

 Verifique se o Código da Prova é o mesmo do seu cartão de respostas

 Duração da prova: **4 horas**

**TRANSCREVA, EM ESPAÇO DETERMINADO NO SEU CARTÃO DE RESPOSTAS,
A FRASE DE CORA CORALINA PARA O EXAME GRAFOTÉCNICO**

“Feliz aquele que transfere o que sabe e aprende o que ensina.”



ATENÇÃO

Este caderno contém quarenta questões de múltipla escolha, cada uma com cinco alternativas de resposta – A, B, C, D e E.

**Verifique se este material está em ordem, caso contrário, notifique imediatamente o fiscal.
O tempo de duração da prova inclui o preenchimento do Cartão de Respostas.**

LEIA AS INSTRUÇÕES ABAIXO:

Siga, atentamente, a forma correta de preenchimento do Cartão de Respostas, conforme estabelecido no próprio. O Cartão de Respostas é personalizado, impossibilitando a substituição.

Por motivo de segurança:

O candidato só poderá retirar-se definitivamente da sala após 1 (uma) hora do início efetivo da prova

- Somente faltando 1 (uma) hora para o término da prova, o candidato poderá retirar-se levando o seu Caderno de Questões
- O candidato que optar por se retirar sem levar o seu Caderno de Questões não poderá copiar suas respostas por qualquer meio. O descumprimento dessa determinação acarretará a eliminação do candidato
- Ao terminar a prova, o candidato deverá se retirar imediatamente do local, não sendo possível nem mesmo a utilização dos banheiros e/ou bebedouros.

Ao terminar a prova, é de sua responsabilidade entregar ao fiscal o Cartão de Respostas assinado. Não se esqueça dos seus pertences. Os três últimos candidatos deverão permanecer na sala até que o último candidato entregue o Cartão de Respostas. O fiscal de sala não está autorizado a alterar quaisquer dessas instruções. Em caso de dúvida, solicite a presença do coordenador local.

BOA PROVA!



IBADE - INSTITUTO BRASILEIRO DE
APOIO E DESENVOLVIMENTO EXECUTIVO

Conhecimentos Gerais-Língua Portuguesa

MINHA HISTÓRIA

Ele vinha sem muita conversa, sem muito explicar
Eu só sei que falava e cheirava e gostava de mar
Sei que tinha tatuagem no braço e dourado no dente
E minha mãe se entregou a esse homem perdidamente

Ele assim como veio partiu não se sabe pra onde
E deixou minha mãe com olhar cada dia mais longe
Esperando parada, pregada na pedra do porto
Com seu único velho vestido cada dia mais curto

Quando enfim eu nasci, minha mãe
embrulhou-me num manto
Me vestiu como se eu fosse assim uma
espécie de santo
(...)

(Chico Buarque)

Questão 1

Dentre as alternativas abaixo, a que apresenta concordância nominal INCORRETA é:

- (A) É proibido entrada de estranhos na fábrica.
- (B) Os empresários mesmos organizaram o evento.
- (C) Estão quites com as obrigações eleitorais.
- (D) Anexo ao processo, estão as fotos do acidente.
- (E) Recebeu inclusa a nota do material da obra.

Questão 2

Pela leitura atenta do texto, depreende-se que houve entre dois personagens:

- (A) briga violenta.
- (B) amizade duradoura.
- (C) cobrança indevida.
- (D) reconciliação esperada.
- (E) envolvimento sentimental.

Questão 3

Nos versos “Quando enfim nasci minha mãe embrulhou-me num manto”, tem-se o período:

- (A) simples.
- (B) composto por coordenação.
- (C) composto por subordinação.
- (D) composto por coordenação e subordinação.
- (E) de oração absoluta.

Questão 4

No verso “E minha mãe se entregou a esse homem perdidamente”, a palavra em destaque teve o seu processo de formação idêntico ao de:

- (A) descontente.
- (B) humanidade.
- (C) aguardente.
- (D) emudecer.
- (E) descampado.

Questão 5

Todas as alternativas abaixo apresentam regência verbal correta, EXCETO em:

- (A) Agradeceu-o pelo gesto de salvar o filho.
- (B) Naquele processo apelou para todos os fatos.
- (C) Assistiu ao jogo com bastante entusiasmo.
- (D) A maioria das crianças obedece à professora.
- (E) Desagradou-lhe a orientação firme do diretor.

Questão 6

Depreende-se, na leitura do texto, a gravidez da personagem pela seguinte imagem:

- (A) “olhar cada dia mais longe”.
- (B) “vestido cada dia mais curto”.
- (C) “embrulhou-me num manto”.
- (D) “partiu não se sabe pra onde”.
- (E) “assim uma espécie de santo”.

Questão 7

De acordo com o texto, o narrador da história é:

- (A) a mãe.
- (B) o homem.
- (C) um parente.
- (D) o filho.
- (E) um amigo.

Questão 8

A função da linguagem predominante no texto é a:

- (A) poética.
- (B) referencial.
- (C) conativa.
- (D) fática.
- (E) metalinguística.

Questão 9

A alternativa em que todas as palavras se acentuam de acordo com a norma culta da língua é:

- (A) límpido – armazém – jóia.
- (B) enjôo – lâmpada – estréia.
- (C) assembléia – saída – boêmio.
- (D) paranóia – juiz – raiz.
- (E) troféu – egoísmo – saúde.

Questão 10

Pelos atributos físicos usados pelo autor ao se referir ao homem, pode-se deduzir que a sua atividade era a de:

- (A) pedreiro.
- (B) carpinteiro.
- (C) marinheiro.
- (D) surfista.
- (E) vendedor.

Conhecimentos Específicos-Raciocínio Lógico**Questão 11**

Na sequência de formação lógica 19; 23; 22; 26; 25; 29; 28; 32; 31; 35; . . . , a soma dos números maiores que 50 e menores que 60 é igual a:

- (A) 383.
- (B) 253.
- (C) 233.
- (D) 353.
- (E) 333.

Questão 12

Bruno comprou 5 chaves de fenda iguais e pagou R\$ 240,00. Se ele tivesse comprado 8 chaves de fenda, o valor pago seria?

- (A) R\$ 380,00.
- (B) R\$ 384,00.
- (C) R\$ 284,00.
- (D) R\$ 304,00.
- (E) R\$ 484,00.

Questão 13

Em uma fábrica de ferramentas artesanais, 10 homens produzem 180 alicates em 3 dias. O número de alicates que serão fabricados por 8 homens em 7 dias é:

- (A) 236.
- (B) 336.
- (C) 436.
- (D) 536.
- (E) 136.

Questão 14

De uma urna com bolas numeradas de 1 até 20 será sorteado, ao acaso, uma bola. A probabilidade de que a bola seja um número primo é:

- (A) 25%
- (B) 30%
- (C) 35%
- (D) 40%
- (E) 45%

Questão 15

O próximo número da sequência {7, 15, 8, 17, 9, ___} é:

- (A) 10.
- (B) 18.
- (C) 19.
- (D) 20.
- (E) 16.

Questão 16

Na empresa de Ricardo 60 funcionários dirigem veículos leves, 40 dirigem veículos pesados e 20 funcionários dirigem os dois tipos de veículos, sabendo que nenhum funcionário ficou de fora desse levantamento, o número de funcionários que sabe dirigir veículos leves ou pesados nessa empresa é:

- (A) 120.
- (B) 100.
- (C) 90.
- (D) 80.
- (E) 70.

Questão 17

Sejam dois dados comuns, ou seja, com faces numeradas de 1 a 6. Uma pessoa jogou os dois dados ao mesmo tempo, a probabilidade de que a soma das faces superiores dos dois dados seja maior que 9 é:

- (A) $\frac{1}{6}$.
- (B) $\frac{1}{18}$.
- (C) $\frac{1}{9}$.
- (D) $\frac{2}{9}$.
- (E) $\frac{3}{18}$.

Questão 18

Com os algarismos 2, 3, 4, 5, 8 e 9 a quantidade de números ímpares de quatro algarismos distintos que podemos escrever é:

- (A) 120.
- (B) 160.
- (C) 180.
- (D) 240.
- (E) 360.

Questão 19

Em uma pesquisa com 500 pessoas para saber o seu gosto musical, constatou - se que:

- 270 pessoas disseram gostar de sertanejo;
- 180 pessoas disseram gostar de funk;
- 60 pessoas disseram gostar dos dois gêneros musicais.

Dessa forma, o número de pessoas que disseram só gostar de funk foi de:

- (A) 180.
- (B) 160.
- (C) 140.
- (D) 120.
- (E) 110.

Questão 20

Antônio comprou uma camisa e ganhou um desconto de 20%. Sabendo que ele pagou R\$ 30 reais na camisa, o preço da camisa antes do desconto era de:

- (A) R\$ 37,50.
- (B) R\$ 47,50.
- (C) R\$ 35,00.
- (D) R\$ 35,50.
- (E) R\$ 36,50.

Conhecimentos Específicos- Conhecimentos na Área de Atuação

Leia o texto a seguir e responda às questões de 21 a 23.

Segundo o Código Penal Brasileiro é dever de cada um prestar assistência quando algum necessitado ou acidentado pedir ajuda.

Conforme o Art. 135 do Código Penal Brasileiro (DECRETO-LEI Nº2.848, DE 7 DE DEZEMBRO DE 1940):

“Art. 135 - Deixar de prestar assistência, quando possível fazê-lo sem risco pessoal, à criança abandonada ou extraviada, ou à pessoa inválida ou ferida, ao desamparo ou em grave e iminente perigo; ou não pedir, nesses casos, o socorro da autoridade pública:

Pena - detenção, de um a seis meses, ou multa.

Parágrafo único - A pena é aumentada de metade, se da omissão resulta lesão corporal de natureza grave, e triplicada, se resulta a morte.”

Após a leitura, depreende-se que mesmo que você não possua conhecimento ou que não se sinta preparado para ajudar no momento da emergência, no mínimo deve-se solicitar o socorro da autoridade pública, como por exemplo o Corpo de Bombeiros Militar ou o Serviço de Atendimento Móvel de Urgência (SAMU).(apostila CBMRJ/2018)

Questão 21

Ao aproximar-se da vítima, o socorrista deverá ter sempre em mente a sua própria segurança e utilizar equipamento de proteção individual (EPI), pois o contato direto com sangue, urina, fezes, saliva, pode causar vários danos à saúde. O equipamento básico para proteção individual, buscando a biossegurança para o socorrista deve ser composto, pelo menos, de:

- (A) luvas de procedimento, avental e óculos de proteção UV.
- (B) luvas de raspa, jaleco e óculos de proteção UV.
- (C) luvas de procedimento, óculos de proteção e máscara facial.
- (D) luvas de raspa, avental e máscara facial.
- (E) luvas de procedimento, jaleco e óculos de proteção UV.

Questão 22

Se a cena do acidente já foi avaliada, se o EPI já foi vestido, o “socorrista” (você) deve avaliar as condições da vítima. A primeira coisa a se fazer ao se aproximar da vítima é verificar o nível de consciência da mesma e se ela responde através de movimentos dos olhos, verbais ou musculares. É conhecido como sequência AVI (alerta ou acordado, voz, inconsciente). A sequência é a seguinte:

- (A) aproxime-se pela lateral da vítima; segure-a pelos ombros; e tente falar com a vítima.
- (B) remova a vítima para local seguro; coloque a vítima com as costas encostadas em um muro ou cadeira; e faça a massagem cardiorrespiratória.
- (C) aproxime-se pela lateral da vítima; coloque a vítima com as costas encostadas em um muro ou cadeira; e faça respiração boca-a-boca.
- (D) aproxime-se pela lateral da vítima; segure-a pelos ombros; e molhe os pulsos com água gelada.
- (E) remova a vítima para local seguro; coloque a vítima com as costas encostadas em um muro ou cadeira; e faça respiração boca-a-boca.

Questão 23

Observe a imagem a seguir.

A manobra apresentada tem por objetivo:



- (A) desobstruir as vias aéreas.
- (B) estancar sangramento.
- (C) transportar vítima.
- (D) cuidar de fratura óssea.
- (E) fazer massagem cardíaca.

Questão 24

A higiene do trabalho engloba normas e procedimentos adequados para proteger as integridades física e mental do trabalhador, seja protegendo-o de riscos decorrentes das tarefas do cargo e do ambiente físico em que está inserido, seja através da prevenção de doenças ocupacionais. São cuidados para melhorar a higiene no trabalho:

- I. mantenha as janelas abertas para uma boa ventilação, se for possível, pois ajuda a evitar a contaminação por vírus.
- II. use os cabelos longos, soltos ou penteados, mas evite prendê-los.
- III. lave sempre as mãos e mantenha as unhas limpas e aparadas, pois armazenam grande quantidade e variedade de sujeira.
- IV. prefira usar sandálias aberta a sapatos fechados e, para não perder tempo, faça sua refeição na própria mesa de trabalho, se houver.

Dos itens acima mencionados, estão corretos, apenas:

- (A) I e II.
- (B) III e IV.
- (C) I e III.
- (D) I, II e III.
- (E) II, III e V.

Questão 25

EPC (Equipamento de Proteção Coletiva) pode ser também um dispositivo que deve ser colocado na máquina ou equipamento com a finalidade de proteger os trabalhadores. São exemplos de EPCs:

- (A) proteção de correias e polias; máscara facial filtradora; biombos para trabalhos com solda; e extintor.
- (B) biombos para trabalhos com solda; óculos de proteção UV; coifa de proteção para serras circulares; e extintor.
- (C) fusível; luvas de raspa; porta corta-fogo; e extintor.
- (D) biombos para trabalhos com solda; porta corta fogo; coifa de proteção para serras circulares; e extintor.
- (E) exaustor; luva de raspa, avental e óculos de proteção UV.

Questão 26

Com base no Artigo 14 do CTB , as competências de cumprir e fazer cumprir a legislação e as normas de trânsito, no âmbito das respectivas atribuições; elaborar normas no âmbito das respectivas competências; responder a consultas relativas à aplicação da legislação e dos procedimentos normativos de trânsito; e estimular e orientar a execução de campanhas educativas de trânsito, entre outras decisões, pertencem:

- (A) aos Conselhos Estaduais de Trânsito - CETRAN e ao Conselho de Trânsito do Distrito Federal – CONTRANDIFE.
- (B) ao DNIT.
- (C) ao DENATRAN.
- (D) à Prefeitura Municipal.
- (E) à Prefeitura Municipal e ao Agente Municipal de Trânsito.

Questão 27

Um dos itens do programa dessa prova é “Noções sobre o funcionamento do veículo”. Observe o texto abaixo.

Conheça bem o seu veículo

Para ajustar bem os (X) e garantir uma boa visão periférica, saiba qual (Y) e como dirigir de forma a não deixar outros veículos fora do seu campo de visão. Além disso, esteja sempre atento ao funcionamento (Z).

É essencial prestar atenção nas pequenas alterações no comportamento do carro para identificar rapidamente a necessidade de reparos. Mudanças repentinas no funcionamento podem significar algum problema mecânico e isso pode se tornar um grande perigo.

Ninguém quer passar pela situação de ter uma peça quebrada enquanto dirige, correndo risco de perder o controle do carro. Portanto, fique atento e não passe sufoco!

Para que a mensagem do texto fique correta, as letras (X), (Y) e (Z) que aparecem no texto, devem ser substituídas, respectivamente, por:

- (A) faróis/o uso adequado/da direção etc.
- (B) freios/ajuste/do acelerador e da direção etc.
- (C) freios/ a manutenção/ do acelerador, do freio, embreagem, volante etc.
- (D) espelhos retrovisores/ o ponto cego do seu carro/ do acelerador, do freio, embreagem, volante etc.
- (E) espelhos retrovisores/uso adequado/do volante etc.

Questão 28

Conforme o Artigo 7º do Sistema Nacional de Trânsito, o CONTRAN é um órgão que compõe o SNT, cabendo a ele:

- (A) como órgão normativo, celebrar convênios e contratos com a iniciativa privada, com o objetivo de manter as vias e estradas em boas condições de circulação.
- (B) coordenar o Sistema, sendo também o órgão máximo normativo e consultivo.
- (C) encaminhar aos órgãos e entidades executivos de trânsito e executivos rodoviários informações sobre problemas observados nas autuações e apontados em recursos, e que se repitam sistematicamente.
- (D) como órgão máximo executivo do Sistema, deverá estabelecer procedimentos sobre a aprendizagem e habilitação de condutores de veículos, a expedição de documentos de condutores, de registro e licenciamento de veículos.
- (E) organizar e manter o Registro Nacional de Carteiras de Habilitação – RENACH, bem como organizar e manter o Registro Nacional de Veículos Automotores – RENAAM.

Questão 29

Na figura acima aparece um veículo automotor sendo conduzido em via pública e em alta velocidade. É bom lembrar que o Art. 308 do CTB determina crime:

- (A) conduzir o veículo com as duas mãos no volante em alta velocidade.
- (B) conduzir o veículo com as suas funções motoras alteradas em razão do consumo de álcool ou de alguma substância psicoativa.
- (C) desobedecer às imposições administrativas impostas com fundamento no CTB.
- (D) utilizar a via pública em velocidade acima do estipulado na sinalização.
- (E) utilizar a via pública para prática de corridas, uma vez que geram situação de risco à propriedade pública ou privada.

Questão 30

Mão no volante e atenção no trânsito

Mantenha as duas mãos no volante!



Esteja sempre com as mãos no volante e evite tirá-la para outras coisas além de trocar a marcha. Em um momento de risco é essencial que você esteja apto a manobrar rapidamente, de forma prevenir uma colisão ou outros acidentes. Por isso, jamais utilize o celular ou fique com outros objetos que impossibilitem sua mão de desenvolver corretamente a atividade que você está fazendo. É comum também que utilizemos o GPS ou outros aplicativos de localização no smartphone que nos auxiliam a chegar ao nosso destino. Por isso, em respeito do CTB, mantenha o hábito de:

- (A) usá-los de maneira regular pois facilita a vida do condutor.
- (B) prepará-los antes de colocar o veículo em movimento e jamais utilize o celular enquanto dirige.
- (C) comprá-los em lojas que forneçam nota fiscal para o caso de troca por mau funcionamento.
- (D) trocá-los, sempre que possível, por um modelo mais atualizado, para não correr o risco de pegar caminho errado.
- (E) mantê-los em condições de perfeito funcionamento.

Questão 31

O Art. 302 do CTB configura crime a prática de homicídio culposo na direção do veículo automotor, ou seja, quando o condutor, ao dirigir:

- (A) desvia de uma pessoa para não a atropelar, e colide com outro veículo.
- (B) atropela uma pessoa com a intenção de fazê-lo.
- (C) atropela uma pessoa sem a intenção de fazê-lo.
- (D) mata uma pessoa com a intenção de fazê-lo.
- (E) mata uma pessoa sem a intenção de fazê-lo.

Questão 32

Observe a chamada abaixo utilizada na campanha Maio Amarelo:

“Pai, andar tão rápido é perigoso.”

Uma das grandes causas de acidentes de trânsito é dirigir em velocidade excessiva, acima do limite estabelecido na via. Quando a velocidade for superior à máxima em mais de 50% (cinquenta por cento) está previsto cometimento de:


- (A) infração gravíssima, com aplicação de penalidade - multa, suspensão imediata do direito de dirigir.
- (B) infração gravíssima, com aplicação de penalidade - multa [3 (três) vezes], suspensão imediata do direito de dirigir e apreensão do documento de habilitação.
- (C) infração grave, com aplicação de penalidade - e apreensão do documento de habilitação.
- (D) infração - média, com aplicação de multa como penalidade [3 (três) vezes].
- (E) infração - média, com aplicação de multa como penalidade.

Questão 33

“A Lei Seca trouxe maior rigor na penalização para quem associa álcool e direção. Criada em 2008, a lei exigiu mudança nos hábitos e comportamentos dos brasileiros. Atualmente, quem for flagrado dirigindo sob o efeito de qualquer quantidade de bebida alcoólica comete (X) e está sujeito à multa de R\$ 2.934,70, além da suspensão do direito de dirigir por (Y). Para quem reincidir na infração no intervalo de um ano, o valor da multa é dobrado. Desde 2016 quem recusa o bafômetro tem a mesma penalidade. No ano passado mais uma mudança: o motorista embriagado que causar acidente pode ser punido com até (Z), nos casos com vítimas fatais, e com até cinco anos, se houver ferido grave.”

Para completar o texto de maneira correta, as letras (X), (Y) e (Z) devem ser substituídas, respectivamente, pelos termos:

- (A) uma infração média/ três meses/ dois anos de detenção.
- (B) uma infração gravíssima/ doze meses/ oito anos de detenção.
- (C) uma infração grave / dois meses/ oito anos de detenção.
- (D) uma infração grave/ doze meses/ dois anos de detenção.
- (E) uma infração gravíssima/ doze meses/ doze anos de detenção.

Questão 34

De acordo com o CTB, esta placa significa proibido:

- (A) estacionar.
- (B) virar à esquerda.
- (C) virar à direita.
- (D) girar.
- (E) contornar.

Questão 35

Fuga do local do acidente é crime, decide STF (uol /2018)

Argumento 1

“A responsabilização penal de quem foge do local do acidente no Código de Trânsito tem apoio constitucional”, disse o relator do caso, ministro do STF Luiz Fux. O ministro também argumentou que a fuga do local do acidente não deve ser vista como um direito do cidadão, cujo direito à não autoincriminação e ao silêncio são garantidos pelo Artigo 5º da Constituição Federal.

Argumento 2

“Esta atitude de permanência no local do acidente, em nada contrasta com a garantia constitucional de não autoincriminação, pois não obriga que ele produza prova contra si próprio, muito menos que preste, obrigatoriamente, declarações a qualquer autoridade que chegue à cena do acidente” (Procuradora Geral Raquel Dodge).

Considerando os argumentos acima, é correto afirmar que:

- (A) o argumento 1 contradiz o argumento 2.
- (B) o argumento 2 não encontra base no CTB.
- (C) o argumento 2 é coerente e completa o argumento 1.
- (D) o argumento 1 não encontra base no CTB.
- (E) os argumentos 1 e 2 encontram base no Código penal, mas não têm coerência com os princípios do CTB.

Questão 36

“Desenvolva o hábito de afivelar o cinto assim que entrar no veículo, antes mesmo de ligar o carro. Certifique-se também que todos os ocupantes façam o mesmo. As estatísticas de trânsito mostram que essa simples ação faz uma diferença gigantesca em relação aos danos causados por um acidente. Ninguém espera sair de casa e sofrer um acidente de trânsito, mas é melhor prevenir do que remediar. Portanto, mantenha os itens de segurança em boas condições. Cinto para todos os ocupantes, freios, estepe e triângulo de sinalização, por exemplo, devem ser regularmente checados.”

O título mais adequado ao texto acima é:

- (A) O Corre-corre nas Cidades.
- (B) Estatística de Acidentes de Trânsito.
- (C) Tráfego nas Cidades.
- (D) Multa no Trânsito.
- (E) Direção Defensiva.

Questão 37

No caso de um veículo /ambulância (prestador de serviço de utilidade pública), quando em atendimento na via, ele goza de livre parada e estacionamento no local da prestação de serviço, desde que:

- (A) o condutor, antes de efetuar a parada, certificar-se de que nenhum condutor vem, ou que tenha começado uma manobra para ultrapassá-lo.
- (B) aguarde no passeio, só estacionando quando o condutor observar que a pista está vazia.
- (C) a faixa de trânsito que o condutor vai tomar esteja livre numa extensão suficiente para que sua manobra não ponha em perigo ou obstrua o trânsito que venha em sentido contrário.
- (D) o condutor verifique a existência e as boas condições de funcionamento dos equipamentos de uso obrigatório, bem como assegurar-se da existência de combustível suficiente para chegar ao local de destino.
- (E) esteja sinalizado e identificado de acordo com as normas do CONTRAN.

Questão 38

Leia a reportagem a seguir.

Foram registradas no estado de São Paulo 1.205 mortes no trânsito nos primeiros três meses deste ano de 2019. O balanço foi divulgado pelo Sistema de Informações Gerenciais de Acidentes de Trânsito do Estado de São Paulo (Infosiga). O número representa uma ligeira queda (-0,6%) em relação as 1.212 mortes ocorridas entre janeiro e março do ano passado.

A maior redução foi do atropelamento de pedestres. No primeiro trimestre deste ano foram registradas 289 mortes, -15,4% do que as 338 registradas no mesmo período de 2018.

Houve uma alta de 12,8% nas vítimas de acidentes entre automóveis, saindo de 275 fatalidades no ano passado para 310 em 2019. As mortes de motociclistas também cresceram, de janeiro a março deste ano com 439 ocorrências, representando 5,8% da 415 registradas no ano passado.

Após a leitura, pode-se chegar às seguintes conclusões:

- I. Em 2019, até março, o número de mortes no trânsito diminuiu em relação ao mesmo período de 2018.
- II. Em 2018 houve menos atropelamentos do que em 2019.
- III. Em 2019 houve mais vítimas de acidentes entre automóveis do que em 2018.
- IV. Em 2018, até março, houve menos mortes de motociclistas do que em 2019.

Está correto o que se afirma em:

- (A) I e IV.
- (B) II e IV.
- (C) II e III.
- (D) I, III e IV.
- (E) II, III e IV.

Questão 39

Numa situação em que um veículo esteja transitando por fluxo que se cruze, no caso de uma rotatória, se aproximar de local e este não estiver sinalizado, terá preferência de passagem o veículo que:

- (A) vier pela direita do condutor.
- (B) vier pela esquerda.
- (C) estiver circulando pela rotatória.
- (D) estiver em velocidade mais alta.
- (E) estiver em velocidade mais baixa.

Questão 40

Este é o símbolo da campanha de trânsito “o sentido do trânsito é a vida”.

Uma mensagem que chamou a atenção foi esta:

***“Deixa pra atender
o celular
depois da viagem”.***

Ouvir o conselho de quem
te ama faz todo o sentido.
Faça sua parte para
um trânsito mais seguro.

Sabe-se que 4 crianças por dia são vítimas fatais no trânsito do Brasil e que o uso do celular é uma das principais causas de acidente no trânsito por tirar a atenção do condutor. Entretanto, a partir de 01.11.2016, a penalidade por utilizar celular durante o ato de dirigir veículo tornou-se mais rígida, passando o ato a ser considerado infração:

- (A) leve, com aplicação de multa.
- (B) média.
- (C) média, com aplicação de multa [3(três)vezes].
- (D) grave, com aplicação de multa [3(três)vezes].
- (E) gravíssima.