



**PREFEITURA MUNICIPAL DE JARU – SECRETARIA MUNICIPAL DE
ADMINISTRAÇÃO, PLANEJAMENTO E FAZENDA**

VIGILANTE

Código da Prova

F07 V
MANHÃ

 Verifique se o Código da Prova é o mesmo do seu cartão de respostas

 Duração da prova: **4 horas**

**TRANSCREVA, EM ESPAÇO DETERMINADO NO SEU CARTÃO DE RESPOSTAS,
A FRASE DE CORA CORALINA PARA O EXAME GRAFOTÉCNICO
“Se não sabes, aprende; se já sabes, ensina.”**



ATENÇÃO

Este caderno contém quarenta questões de múltipla escolha, cada uma com cinco alternativas de resposta – A, B, C, D e E.

**Verifique se este material está em ordem, caso contrário, notifique imediatamente o fiscal.
O tempo de duração da prova inclui o preenchimento do Cartão de Respostas.**

LEIA AS INSTRUÇÕES ABAIXO:

Siga, atentamente, a forma correta de preenchimento do Cartão de Respostas, conforme estabelecido no próprio. O Cartão de Respostas é personalizado, impossibilitando a substituição.

Por motivo de segurança:

O candidato só poderá retirar-se definitivamente da sala após 1 (uma) hora do início efetivo da prova

- Somente faltando 1 (uma) hora para o término da prova, o candidato poderá retirar-se levando o seu Caderno de Questões
- O candidato que optar por se retirar sem levar o seu Caderno de Questões não poderá copiar suas respostas por qualquer meio. O descumprimento dessa determinação acarretará a eliminação do candidato
- Ao terminar a prova, o candidato deverá se retirar imediatamente do local, não sendo possível nem mesmo a utilização dos banheiros e/ou bebedouros.

Ao terminar a prova, é de sua responsabilidade entregar ao fiscal o Cartão de Respostas assinado. Não se esqueça dos seus pertences. Os três últimos candidatos deverão permanecer na sala até que o último candidato entregue o Cartão de Respostas. O fiscal de sala não está autorizado a alterar quaisquer dessas instruções. Em caso de dúvida, solicite a presença do coordenador local.

BOA PROVA!



IBADE - INSTITUTO BRASILEIRO DE
APOIO E DESENVOLVIMENTO EXECUTIVO

Conhecimentos Gerais-Língua Portuguesa

Cidadezinha qualquer

Casas entre bananeiras
mulheres entre laranjeiras
pomar amor contar

Um homem vai devagar
Um cachorro vai devagar
Um burro vai devagar
Devagar... as janelas olham

Eta vida besta, meu Deus.
Carlos Drummond de Andrade

Questão 1

No trecho “...vida besta, meu Deus!”, a palavra em destaque pode ser substituída, sem prejuízo do sentido, por:

- (A) boa.
- (B) fácil.
- (C) dura.
- (D) tola.
- (E) cruel.

Questão 2

Dentre as alternativas abaixo, a que NÃO corresponde ao texto é:

- (A) evidencia o sossego de uma cidade do interior.
- (B) mostra a rotina de uma cidade pequena.
- (C) aborda a mesmice do dia-a-dia da cidade.
- (D) revela uma observação do poeta.
- (E) mostra o quanto a cidade é populosa.

Questão 3

No último verso do poema, o poeta manifesta um sentimento de:

- (A) censura.
- (B) indignação.
- (C) satisfação.
- (D) tristeza.
- (E) júbilo.

Questão 4

O terceiro verso “pomar amor contar” resume:

- (A) a vida inquietante da cidade.
- (B) o ritmo frenético do interior.
- (C) a simplicidade da vida interiorana.
- (D) o gosto pela plantação de frutíferas.
- (E) a vida dos que contam histórias.

Questão 5

No verso “pomar amor contar”, tem-se, respectivamente, as seguintes classes gramaticais:

- (A) verbo – substantivo – verbo.
- (B) substantivo – adjetivo – verbo.
- (C) advérbio – adjetivo – substantivo.
- (D) adjetivo – advérbio – adjetivo.
- (E) substantivo – substantivo – verbo.

Questão 6

Das alternativas abaixo, a que apresenta um par de palavras com dígrafo é:

- (A) lixo – cachorro.
- (B) bicho – presa.
- (C) qualquer – burro.
- (D) obstáculo – olham.
- (E) mulheres – cabresto.

Questão 7

No último verso do poema, a palavra ETA tem o seguinte valor gramatical:

- (A) preposição.
- (B) interjeição.
- (C) advérbio.
- (D) pronome.
- (E) numeral.

Questão 8

Pela leitura do texto, pode-se afirmar que:

- I. O título representa a síntese do poema.
- II. O termo qualquer é um pronome indefinido.
- III. O termo devagar que aparece em 4 versos é um adjetivo.
- IV. Em “...as janelas olham”, o poeta se referia às pessoas que espiavam da janela.

Estão corretas apenas as afirmativas:

- (A) I,II,III
- (B) III,IV
- (C) I,II,IV
- (D) I,III,IV
- (E) II,III

Questão 9

Em “Um homem, um cachorro, um burro andam devagar.”, o tipo de sujeito nesta oração é:

- (A) simples.
- (B) composto.
- (C) implícito.
- (D) indeterminado.
- (E) oração sem sujeito.

Questão 10

“Um homem vai devagar
Um cachorro vai devagar
Um burro vai devagar”

Estes versos retratam:

- (A) o abandono dos animais na rua da cidade.
- (B) a morosidade com que a vida se desenvolve.
- (C) o desamparo em que vivem as pessoas de rua.
- (D) a comparação do homem aos animais na rua.
- (E) o fato de as mulheres não se apresentarem.

Conhecimentos Específicos-Matemática**Questão 11**

José tinha um muro para levantar. No primeiro dia de trabalho ele conseguiu fazer 20% do muro. No dia seguinte conseguiu fazer 40% do muro. O percentual do muro que José precisa fazer para terminar o seu trabalho é:

- (A) 30%.
- (B) 20%.
- (C) 60%.
- (D) 40%.
- (E) 50%.

Questão 12

Márcia gastou 30% de $\frac{2}{5}$ do seu salário e ainda lhe restou R\$ 880,00. O salário de Márcia é:

- (A) R\$ 1000,00.
- (B) R\$ 980,00.
- (C) R\$ 1100,00.
- (D) R\$ 1140,00.
- (E) R\$ 1080,00.

Questão 13

A estação rodoviária de uma cidade é o ponto de partida das viagens intermunicipais. De uma plataforma da estação, a cada 15 minutos partem um ônibus da viação Sol, com destino a cidade paraíso. Os ônibus da viação Lua partem da plataforma vizinha a cada 18 minutos, com destino a cidade Porta do Céu. Se, às 10 horas os dois ônibus partirem simultaneamente, os dois ônibus partirão juntos, novamente, às:

- (A) 11 horas e 20 minutos.
- (B) 12 horas e 30 minutos.
- (C) 11 horas e 30 minutos.
- (D) 12 horas.
- (E) 10 horas e 30 minutos.

Questão 14

Uma parede no formato retangular deverá ser pintada pelo Sr. João. A parede tem medidas 5 metros de comprimento com 3 metros de altura. Ele sabe que uma lata de tinta consegue pintar 4 m^2 de parede. O número mínimo de lata(s) que o Sr. João deverá comprar para pintar toda a parede é:

- (A) 2 latas.
- (B) 3 latas.
- (C) 1 lata.
- (D) 5 latas.
- (E) 4 latas.

Questão 15

Quantos números naturais de 2 algarismos distintos existem que são divisíveis por 5?

- (A) 20
- (B) 19
- (C) 18
- (D) 17
- (E) 16

Questão 16

Se 15 homens gastam 10 dias montando 25 máquinas, o número de dias que 20 homens necessitarão para montar 60 máquinas é:

- (A) 20 dias.
- (B) 13 dias.
- (C) 14 dias.
- (D) 15 dias.
- (E) 18 dias.

Questão 17

Nas últimas férias, Júlio viajou com seu amigo Márcio para o nordeste. Os dois amigos compraram algumas lembranças para seus familiares. Júlio comprou 4 imãs de geladeira e 6 chaveiros, gastou no total 194 reais. O valor gasto por Márcio, sabendo que ele comprou 2 imãs de geladeira e 3 chaveiros, iguais aos do seu amigo Júlio é:

- (A) R\$ 87,00.
- (B) R\$ 97,00.
- (C) R\$ 98,00.
- (D) R\$ 88,00.
- (E) R\$ 107,00.

Questão 18

Uma cisterna na forma de um paralelepípedo retângulo com as seguintes dimensões $5 \text{ m} \times 2 \text{ m} \times 3 \text{ m}$, deverá receber água de uma torneira. Sabendo que a torneira leva 15 minutos para encher 5 m^3 , então a cisterna ficará completamente cheia em:

- (A) 90 minutos.
- (B) 80 minutos.
- (C) 85 minutos.
- (D) 95 minutos.
- (E) 75 minutos.

Questão 19

Um grupo de 4 professores levam 10 dias para corrigir as provas de um concurso. Quantos dias levarão 20 professores para corrigir as mesmas provas?

- (A) 50 dias.
- (B) 20 dias.
- (C) 15 dias.
- (D) 5 dias.
- (E) 2 dias.

Questão 20

Quantos são os números ímpares, de três algarismos, e começados por um algarismo par?

- (A) 500 números.
- (B) 1000 números.
- (C) 200 números.
- (D) 250 números.
- (E) 350 números.

Conhecimentos Específicos- Conhecimentos na Área de Atuação

Questão 21

Primeiros socorros são os procedimentos de emergência que devem ser aplicados a uma pessoa em perigo de vida, visando manter os sinais vitais e evitando o agravamento, até que ela receba assistência definitiva. Deve-se prestar primeiros socorros sempre que a vítima não esteja em condições de cuidar de si própria. São exemplos de regras básicas:

- I. Manter a calma. Afastar os curiosos e agir com rapidez e segurança.
- II. Voltar a cabeça da vítima delicadamente para um dos lados, no caso de vômito, pois isso evita que o vômito chegue até os pulmões.
- III. Remover a vítima do local do acidente imediatamente mesmo sem conhecer a natureza e extensão dos seus ferimentos.
- IV. Fazer a vítima sentar-se ou levantar-se.
- V. Acalmar a vítima e não a deixar sozinha até a chegada do atendimento profissional.

Dos itens acima, estão corretos, apenas:

- (A) I e II.
- (B) II e III.
- (C) I, II e V.
- (D) II, III e IV.
- (E) I, III e V.

A figura a seguir apresenta alguns EPIs mais usados pelos trabalhadores. Observe-a para responder às questões 22 e 23:



Questão 22

A Máscara Filtradora é um EPI fundamental, por exemplo, para quem trabalha com:

- (A) marcenaria, por causa da serragem da madeira.
- (B) soldagem, pois protege toda a face de possíveis queimaduras.
- (C) produção de refeições, pois protege de queimaduras.
- (D) obras, pois protege os ouvidos dos ruídos.
- (E) vigilância de prédios, por causa das possíveis invasões de estranhos no local de trabalho.

Questão 23

As luvas de raspa são indicadas para trabalhadores que necessitam de proteção contra:

- (A) mordidas de insetos, como jardinagem.
- (B) temperaturas quentes nas cozinhas domésticas.
- (C) agentes abrasivos, materiais cortantes, como nas carpintarias.
- (D) baixas temperaturas, como nos frigoríficos.
- (E) micróbios presentes em adubo natural, como jardinagem.

Questão 24

Corte superficial é um tipo de ferimento que ocorre, frequentemente, em ambientes domésticos. No entanto, algumas medidas preventivas e simples tomadas no momento do acidente podem acelerar processo de recuperação. São elas, respectivamente:

- (A) lavar as mãos com água e sabão; comprimir o local com gaze ou pano limpo até estancar o sangue, e lavar o ferimento, também com água e sabão, para remover resíduos de sujeira.
- (B) estancar o sangramento; deve-se limpar a região com um pano embebido em água, e procurar serviço de emergência especializado.
- (C) lavar o local com água e sabão; comprimir o ferimento para que o sangue estanque no mínimo por dez minutos, e providenciar uma sutura.
- (D) acionar os serviços SAMU; comprimir o local com gaze ou pano limpo até estancar o sangue, e lavar as mãos.
- (E) limpar a região com um pano embebido em água; acionar o serviço de emergência, e providenciar uma rápida sutura.

Questão 25

A higiene individual contribui para uma boa saúde. Deve-se lavar as mãos, manter as unhas limpas, retirando a sujeira que fica armazenada debaixo das unhas. Quando a pessoa coloca a mão suja na boca está sujeita a ser infectada com as bactérias ali localizadas, podendo gerar:

- (A) desconforto e acidez na boca.
- (B) verminoses e doenças intestinais.
- (C) doenças e transtornos mentais.
- (D) comportamentos estranhos e intestino preso.
- (E) diarreias constantes e unhas roídas.

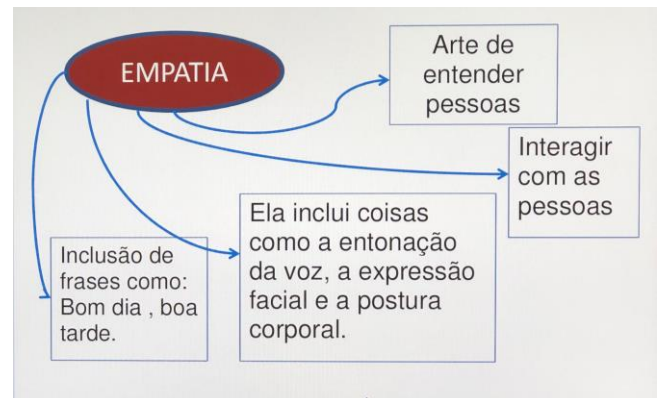
Questão 26

Arrogância, desonestidade, impaciência, desrespeito, imposição de normas ou exibição de poder, tornam o atendente, na percepção dos usuários:

- (A) agradável.
- (B) intolerável.
- (C) amigável.
- (D) simplório.
- (E) inocente.

Questão 27

Observe o esquema a seguir.



São alguns atributos dessa habilidade considerada uma das mais importantes no meio profissional e na própria vida. Uma definição de empatia pode ser o(a):

- (A) estado que implica, por exemplo, sentir a dor ou o prazer do outro como ele o sente, e perceber suas causas como ele a percebe, porém sem perder nunca de vista que se trata da dor ou do prazer do outro.
- (B) laço de união entre os homens, fundado no respeito pela dignidade da pessoa humana e na igualdade de direitos entre todos os seres humanos.
- (C) efeito de estranhar alguma coisa, de achar estranho, fora do comum. Surpresa diante do que não é comum ou rotineiro; estranheza, admiração. Desconforto em relação a alguém com quem não se simpatizou.
- (D) ato de assumir uma coisa por outra; não se distinguir; não diferenciar uma pessoa de outra.
- (E) capacidade de uma pessoa lidar com seus próprios problemas, vencer obstáculos e não ceder à pressão, seja qual for a situação.


Questão 28

Os aparelhos de comunicação são fundamentais para o profissional “vigilante”. O equipamento mais comum para a intercomunicação é o rádio. Com a tecnologia, o rádio vem sendo trocado pelo WhatsApp, porém, é uma ferramenta que deve ser usada com moderação para não desviar o foco do vigilante. Já o rádio ajuda no trabalho de grupo pois:

- (A) todos que estão de plantão podem se comunicar sem sair dos respectivos postos e facilita o trabalho do supervisor.
- (B) todos que estão de plantão podem se comunicar, muitas vezes, sem sair da sua própria casa.
- (C) falha menos do que o WhatsApp pois não precisa carregar bateria.
- (D) falha mais do que o WhatsApp pois precisa carregar a bateria.
- (E) o supervisor pode controlar a presença do vigilante onde quer que ele esteja.

Questão 29

Observe a imagem.



Trata-se de extintor com gás carbônico pressurizado em seu interior. É eficiente no combate a incêndio classe B e C. Esse agente extintor é considerado limpo por não deixar resíduos e age principalmente por abafamento. É ideal para usar em incêndios de classe B, por sua característica principal ser a queima somente na parte da superfície como, por exemplo, incêndios que envolvem:

- (A) sólidos comuns, por exemplo a combustão da madeira.
- (B) materiais de decoração de casas como mobília.
- (C) sólidos comuns, como combustão de livros.
- (D) líquidos inflamáveis como refrigerantes e sucos.
- (E) líquidos inflamáveis, graxas e gases combustíveis

Questão 30

Observe a imagem.



O atendimento telefônico, por vezes, é a primeira impressão que fica para um usuário, seja ele quem for. No caso de um trabalho com segurança patrimonial, é muito importante que o serviço prestado (produto da informação) deve atender à real necessidade do usuário, sendo:

- (A) aquilo que for possível oferecer no momento.
- (B) exatamente aquilo que o chefe ordenou que fosse falado.
- (C) a princípio, um texto que o telefonista já saiba informar.
- (D) exatamente como o usuário espera, deseja ou necessita que ele seja.
- (E) o mais importante, a correção na língua portuguesa, independentemente, do conteúdo da informação.

Questão 31

Trata-se do instrumento de reconhecimento e proteção do patrimônio cultural mais conhecido, e pode ser feito pela administração federal, estadual e municipal. Em âmbito federal, foi instituído pelo Decreto-Lei nº 25, de 30 de novembro de 1937, o primeiro instrumento legal de proteção do Patrimônio Cultural Brasileiro e o primeiro das Américas, e cujos preceitos fundamentais se mantêm atuais e em uso até os nossos dias. Esse trecho refere-se ao conceito de:

- (A) arquivo.
- (B) tombamento.
- (C) patrimônio.
- (D) cadastro.
- (E) proteção.

Questão 32

O Corpo de Bombeiros do estado de Rondônia tem a missão de realizar serviços de prevenção e extinção de incêndios, de busca e salvamento entre outras. O CB pode ser acionado, em todo o país, através do telefone:

- (A) 190.
- (B) 191.
- (C) 192.
- (D) 193.
- (E) 194

Questão 33

No atendimento telefônico, a linguagem é o fator principal para garantir a qualidade da comunicação. Portanto, para entender e responder às demandas de maneira cordial, simples, clara e objetiva, é preciso que o atendente saiba:

- (A) ouvir.
- (B) discordar.
- (C) discutir.
- (D) enredar.
- (E) persuadir.

Questão 34

São procedimentos necessários e adequados no combate ao fogo numa ocorrência de incêndio nas áreas comuns de uma edificação:

- I. Desligar as luzes, em caso de curto-circuito.
- II. Procurar impedir a propagação do fogo combatendo as chamas no estágio inicial.
- III. Lançar baldes de água nos equipamentos eletroeletrônicos, pois são altamente condutores de calor.
- IV. Utilizar o equipamento de combate ao fogo disponível nas áreas comuns da edificação.

Dos itens acima descritos, estão corretos, apenas:

- (A) I e II.
- (B) II e III.
- (C) II e IV.
- (D) III e IV.
- (E) I e IV.

Questão 35

Observe a imagem.



A tecnologia é, atualmente, um forte aliado do sistema de segurança, seja ele qual for; entretanto pode tornar-se uma inimigo. Um sistema eletrônico eficiente de segurança (câmeras, alarmes etc.) exige equipamentos em pleno funcionamento. Para isso, é necessário mais do que apenas instalar os aparelhos corretos: é preciso mantê-los em sua performance original fazendo, primeiramente e principalmente a(o):

- (A) manutenção corretiva.
- (B) manutenção esporádica.
- (C) manutenção preventiva.
- (D) treinamento forçado.
- (E) treinamento adequado.

Questão 36

A prudência também é fator primordial no combate aos incêndios. Qualquer instalação predial deve funcionar conforme as condições de segurança estabelecidas por lei, que vão desde a obrigatoriedade de extintores de incêndios, hidrantes, mangueiras, registros, chuveiros automáticos (sprinklers) e escadas com corrimão. Entre esses equipamentos, o mais utilizado no combate a incêndios é o (a):

- (A) extintor de incêndio.
- (B) hidrante.
- (C) mangueira.
- (D) sprinkler.
- (E) escada de corrimão.

Questão 37

Num incêndio em que não é possível controlar o fogo, o edifício deve ser abandonado, e os ocupantes, rapidamente, devem sair pelas escadas e, ao sair NÃO DEVEM:

- (A) fechar as portas atrás de si devem, sem trancá-las.
- (B) utilizar também o elevador como meio de escape.
- (C) permanecer no pavimento em que o ocupante se encontra, caso não possa usar as escadas.
- (D) aguardar a chegada dos bombeiros no pavimento em que se encontra, caso não possa usar as escadas.
- (E) subir ao terraço somente se o edifício oferecer condições de evacuação pelo alto.

Questão 38

O uniforme é um equipamento fundamental para o vigilante. Deve ser escolhido considerando os seguintes critérios:

- (A) as cores devem ser as mesmas usadas pela PM, o clima da região e a logomarca do estado de Rondônia.
- (B) a região onde o vigilante vai desempenhar sua função, a escolha de mangas compridas, ou obedecer ao padrão do terno preto.
- (C) as atividades desempenhadas pelo profissional, a logomarca do estado de Rondônia e obedecer ao padrão do terno preto.
- (D) as atividades desempenhadas pelo profissional, o grau de risco do local e o tipo de ambiente.
- (E) o clima da região e a logomarca do município de Jaru.

Questão 39

A comunicação é uma extraordinária ferramenta da qualidade no atendimento. Portanto, é preciso muito cuidado para evitar ruídos na comunicação, ou seja, é necessário reconhecer os elementos que podem:

- (A) ser benéficos e prejudiquem o entendimento das mensagens.
- (B) facilitar o processo de comunicação e, assim, excluí-los da mensagem.
- (C) ser geradores de dúvida e passar a usá-los, para não se comprometer com a informação.
- (D) impressionar o usuário, aquele que está recebendo a informação.
- (E) complicar ou impedir o perfeito entendimento das mensagens.

Questão 40

Em alguns casos, contar com um vigilante armado pode ser uma boa opção para determinados locais. Para os seguranças que usam artilharia de fogo é obrigatório o uso do (da):

- (A) spray de pimenta.
- (B) gás lacrimogênio.
- (C) cassetete.
- (D) escopeta.
- (E) colete a prova de bala.