


**PREFEITURA MUNICIPAL DE PORTO VELHO - SECRETARIA MUNICIPAL
DE ADMINISTRAÇÃO**

INSTRUTOR DE ARTE - DANÇA CLÁSSICA

Código da Prova

M15 Z
TARDE

 Verifique se o Código da Prova é o mesmo do seu cartão de respostas

 Duração da prova: **3 horas e 30 minutos**

**TRANSCREVA, EM ESPAÇO DETERMINADO NO SEU CARTÃO DE RESPOSTAS,
A FRASE DE ARISTÓTELES PARA O EXAME GRAFOTÉCNICO**

**“A coragem é a primeira das qualidades humanas porque
garante todas as outras”**



ATENÇÃO

Este caderno contém quarenta questões de múltipla escolha, cada uma com cinco alternativas de resposta – A, B, C, D e E.

**Verifique se este material está em ordem, caso contrário, notifique imediatamente o fiscal.
O tempo de duração da prova inclui o preenchimento do Cartão de Respostas.**

LEIA AS INSTRUÇÕES ABAIXO:

Siga, atentamente, a forma correta de preenchimento do Cartão de Respostas, conforme estabelecido no próprio. O Cartão de Respostas é personalizado, impossibilitando a substituição.

Por motivo de segurança:

- O candidato só poderá retirar-se definitivamente da sala após 1 (uma) hora do início efetivo da prova
- Somente faltando 1 (uma) hora para o término da prova, o candidato poderá retirar-se levando o seu Caderno de Questões
- O candidato que optar por se retirar sem levar o seu Caderno de Questões não poderá copiar suas respostas por qualquer meio. O descumprimento dessa determinação acarretará a eliminação do candidato
- Ao terminar a prova, o candidato deverá se retirar imediatamente do local, não sendo possível nem mesmo a utilização dos banheiros e/ou bebedouros.

Ao terminar a prova, é de sua responsabilidade entregar ao fiscal o Cartão de Respostas assinado. Não se esqueça dos seus pertences. Os três últimos candidatos deverão permanecer na sala até que o último candidato entregue o Cartão de Respostas. O fiscal de sala não está autorizado a alterar quaisquer dessas instruções. Em caso de dúvida, solicite a presença do coordenador local.

Língua Portuguesa

Mensagem à família

Na educação de nossos filhos
Todo exagero é negativo.
Responda-lhe, não o instrua.
Proteja-o, não o cubra.
Ajude-o, não o substitua.
Abrigue-o, não o esconda.
Ame-o, não o idolatre.
Acompanhe-o, não o leve.
Mostre-lhe o perigo, não o atemorize.
Inclua-o, não o isole.
Alimente suas esperanças, não as descarte.
Não exija que seja o melhor, peça-lhe para ser bom e dê exemplo.
Não o mime em demasia, rodeie-o de amor.
Não o mande estudar, prepare-lhe um clima de estudo.
Não fabrique um castelo para ele, vivam todos com naturalidade.
Não lhe ensine a ser, seja você como quer que ele seja.
Não lhe dedique a vida, vivam todos.
Lembre-se de que seu filho não o escuta, ele o olha.
E, finalmente, quando a gaiola do canário se quebrar, não compre outra...
Ensina-lhe a viver sem portas.

Eugênia Puebla

Questão 1

Assinale a frase gramaticalmente CORRETA:

- (A) Eis o porque da minha viagem.
- (B) Ele não apareceu por que estava trabalhando.
- (C) Não sei por que foram demitidos.
- (D) Mas porque faltou ao encontro?
- (E) Não respondi porquê não ouvi a pergunta.

Questão 2

Na frase “Chorou rios de lágrimas ao terminar o namoro”, há a seguinte figura de linguagem:

- (A) Hipérbole.
- (B) Eufemismo.
- (C) Prosopopeia
- (D) Metáfora.
- (E) Metonímia.

Questão 3

Considerando a necessidade de correlação entre tempos e modos verbais, a alternativa em que ela contraria as normas da língua padrão escrita é:

- (A) Aquela função exige que o profissional conheça a sua complexidade.
- (B) Ele tornou-se mais sociável depois que os esclarecimentos foram colocados pelo professor.
- (C) O convívio entre as pessoas será sempre melhor se houver respeito entre elas.
- (D) Não fora o acolhimento do caso pelo juiz, todos teremos perdas exorbitantes.
- (E) A cidadezinha já sofrera profundas modificações quando se organizou aquele evento cultural.

Questão 4

O texto “Mensagem à família” é do tipo:

- (A) expositivo.
- (B) descritivo.
- (C) injuntivo.
- (D) narrativo.
- (E) argumentativo.

Questão 5

Transpondo-se para a voz passiva a frase “Os pais têm dado bons exemplos a seus filhos”, obtém-se a forma verbal:

- (A) estão sendo dados.
- (B) têm sido dados.
- (C) foram dados.
- (D) tem sido dado.
- (E) estão dando.

Questão 6

No verso “Não lhe ensine a ser, seja você como quer que ele seja.”, entende-se:

- (A) que não se deve estimular a competição entre pais e filhos, pois isso não é educativo.
- (B) que não se deve importar com o que os filhos desejem ser e sim consigo próprio.
- (C) que se deve influenciar os filhos até eles decidirem por si mesmos quando adultos.
- (D) que se deve ser um exemplo de sua própria pretensão, sem ter que projetá-la nos filhos.
- (E) que se deve encaminhar a educação dos filhos assim como os pais foram encaminhados.

Questão 7

A concordância verbal NÃO está de acordo com a norma culta da língua em:

- (A) Trinta por cento dos votos foram anulados.
- (B) Não se comprarão fogos para o Ano Novo.
- (C) O conteúdo dos telefonemas espantou a todos.
- (D) Grande parte dos bairros está construída em palafitas.
- (E) Vossa senhoria bem sabeis o que pensam os locatários.

Questão 8

A alternativa em que ocorre ERRO no emprego do sinal indicativo da crase é:

- (A) À noite e meio às pressas, o rapaz se despediu.
- (B) O palestrante não se referiu à situações em conflito.
- (C) Foram muitas as críticas à decisão do desembargador.
- (D) Suas decisões são iguais às que os pais tomaram.
- (E) Nas férias iremos à fascinante Moscou.

Questão 9

A alternativa em que a concordância nominal é INACEITÁVEL, segundo a norma culta da língua, é:

- (A) Nós mesmos providenciaremos as certidões.
- (B) Elas próprias desistiram da ação na justiça.
- (C) Seguem anexos à declaração os documentos pessoais.
- (D) Aquela moça anda sempre meia assustada.
- (E) Naquela repartição é proibido entrada.

Questão 10

O verso “Não fabrique um castelo para ele, vivam todos com naturalidade.”, significa:

- (A) desprestigiar construções suntuosas.
- (B) viver o artificialismo das relações.
- (C) transformar a realidade em conto de fadas.
- (D) simular austeridade num mundo de contrastes.
- (E) viver a realidade, e não um mundo de fantasia.

Questão 11

Em “Não revelou o que ganhara a ninguém, exceto à mãe.”, as palavras destacada pertencem, respectivamente, às seguintes classes gramaticais:

- (A) pronome demonstrativo / pronome relativo.
- (B) artigo / conjunção integrante.
- (C) pronome demonstrativo / conjunção integrante.
- (D) artigo / pronome relativo.
- (E) pronome oblíquo / conjunção integrante.

Questão 12

Pela mensagem do texto, verifica-se que é:

- (A) um guia de proteção à família a fim de resguardá-la.
- (B) um roteiro ideal de bem-educar os filhos.
- (C) um método educativo de desprendimento familiar.
- (D) um programa irreal de educação em nossa realidade.
- (E) um projeto educativo interessante, mas ineficaz.

Questão 13

Quanto à regência verbal, a alternativa que NÃO obedece à norma culta da língua, é:

- (A) O jogo foi bom, mas não lhe assistimos.
- (B) A absolvição do preso não agradou ao promotor.
- (C) Todos aspiravam à promoção para aquele cargo.
- (D) A professora informou os alunos do dia da excursão.
- (E) O patrão pagou ao empregado o 13º salário.

Questão 14

O verso “Ensina-lhe a viver sem portas” significa viver:

- (A) ao ar livre.
- (B) com barreiras.
- (C) com destemor.
- (D) com limites.
- (E) em liberdade.

Questão 15

A alternativa em que ocorre ERRO de colocação pronominal é:

- (A) Preocupei-me demais com suas leviandades.
- (B) Hoje se arrepende de não ter ido à festa.
- (C) Agora lembro-me de você, rapaz.
- (D) Não te contaria toda a verdade.
- (E) Nunca se encontrará o culpado.

Atualidades

Questão 16

A agricultura e a pecuária empregam juntas, atualmente, cerca de 13% da população brasileira economicamente ativa e respondem por, aproximadamente, 6% do Produto Interno Bruto (PIB) anual do país.

São fatores que contribuem para a expansão da agropecuária brasileira:

- I. O clima tropical semiárido predominante na maior parte do território brasileiro, apresentando temperaturas elevadas (entre 24º e 28º), com escassez e irregularidade de chuvas.
- II. O grande mercado consumidor interno e a ampliação de áreas com agropecuária moderna.
- III. As vastas extensões de terra com relevo suavemente ondulado e fertilidade de boa parte dos solos.
- IV. O clima quente na maior parte do território brasileiro, favorável ao desenvolvimento de lavouras tropicais e de criação de animais.

Dos itens acima mencionados, estão corretos, apenas:

- (A) I e II.
- (B) II e III.
- (C) I, II e III.
- (D) I, II e IV.
- (E) II, III e IV.

Questão 17

Grande parte da energia elétrica utilizada nas áreas de extração de minérios da Região Norte provém da produção de energia gerada em uma determinada hidrelétrica, situada no Rio Tocantins, no Pará. Trata-se da hidrelétrica denominada:

- (A) Itaipu.
- (B) Belo Monte.
- (C) Xingó.
- (D) Tucurí.
- (E) Jirau.

Questão 18

Estamos conectados 24 horas por dia e podemos acompanhar em tempo real tudo que ocorre do outro lado do mundo. A tecnologia e a inovação são dois itens que proporcionam evolução e revolução. Quem não acompanhar esse ritmo de transformação fica desatualizado e fora do contexto social. Há um tempo falava-se em globalização, que era a quebra de barreiras entre países. Chegamos na era digital, em que as informações transitam em velocidade instantânea e há comunicação direta entre as pessoas, sem limites de tempo e espaço, estamos falando na quarta revolução industrial e na indústria 4.0. (agência de notícias CNI) Por muito tempo temia-se o avanço tecnológico e não tínhamos a noção de onde poderíamos chegar. Falava-se em substituir o homem pela máquina, mas o que podemos perceber é que houve uma integração entre eles. Pode-se afirmar que, pela leitura do texto, o maior patrimônio das empresas é:

- (A) a carteira de fidelização de clientes.
- (B) a ampliação do mercado.
- (C) sua missão bem clara para o cliente.
- (D) o patrimônio de capital imobilizado.
- (E) seu capital intelectual e de seus colaboradores.

Questão 19

Corte de madeira, mineração, agropecuária e cada vez maior a expansão dos centros urbanos em direção às **florestas** são responsáveis por levar ao chão aproximadamente 26 bilhões de **árvores** por ano. Para reverter este cenário de destruição, o americano Lauren Fletcher sonha em fazer um replantio em escala industrial: *semear 1 bilhão de árvores* por ano usando **drones**. “Há anos eu e meu time estudamos as **mudanças climáticas**. Com esta tecnologia, acreditamos que poderemos mudar o mundo”, afirma o visionário. (www.planetasustentavel.abril.com.br).

Pode-se afirmar que essa solução bastante criativa de Lauren Fletcher demonstra a sua preocupação com o(a):

- (A) desmatamento e desenvolvimento sustentável.
- (B) exploração das florestas e agricultura sustentável.
- (C) destruição da lavouras e desenvolvimento sustentável.
- (D) exploração das florestas e agricultura familiar.
- (E) diminuição das áreas verdes e agricultura familiar.

Questão 20

Há diferentes fontes alternativas de energia que podem ser utilizadas no lugar de combustíveis fósseis. A produção de energia elétrica que se utiliza de painéis com células fotovoltaicas; essas células, quando aquecidas, geram correntes de energia, e são capazes de transformar em eletricidade cerca de um terço da 'luz' captada pelos painéis, é denominada energia:

- (A) do álcool.
- (B) do petróleo.
- (C) solar.
- (D) hidrelétrica.
- (E) eólica.

Informática Básica**Questão 21**

Você criou uma apresentação em Power Point, mas na próxima exibição que fará resolveu que um determinado slide não se aplica e deseja então ocultá-lo, mas sem deletar, pois poderá interessar numa próxima exibição.

O item da barra de ferramentas em que você encontra a opção "ocultar slide", é:

- (A) Design.
- (B) Apresentação de Slides.
- (C) Revisão.
- (D) Exibição.
- (E) Inserir.

Questão 22

Numa edição usando o Microsoft Word você precisa aumentar o tamanho dos caracteres para melhor visualizar. Decide então aplicar um zoom no arquivo. A opção da barra de tarefas em que você encontra essa alternativa, é:

- (A) Layout da página.
- (B) Design.
- (C) Correspondências.
- (D) Exibição.
- (E) Revisão.

Questão 23

Você digitou um arquivo texto, com dados alinhados, separados por espaços e deseja importar essas informações para uma planilha Excel a fim de poder tabular.

Utilizando a barra de ferramentas você utiliza a seguinte opção:

- (A) Inserir.
- (B) Layout da página.
- (C) Revisão.
- (D) Dados.
- (E) Fórmulas.

Questão 24

Suponha uma planilha Excel (PT/BR) onde as células tem os seguintes valores: A1=10, A2= 15, A3= 22, A4= 13 e A5= 10. O valor apresentado na célula B1 se a mesma contivesse a fórmula =soma(A1:A4)/A5-5 seria:

- (A) 2
- (B) 12
- (C) 10
- (D) 24
- (E) 1

Questão 25

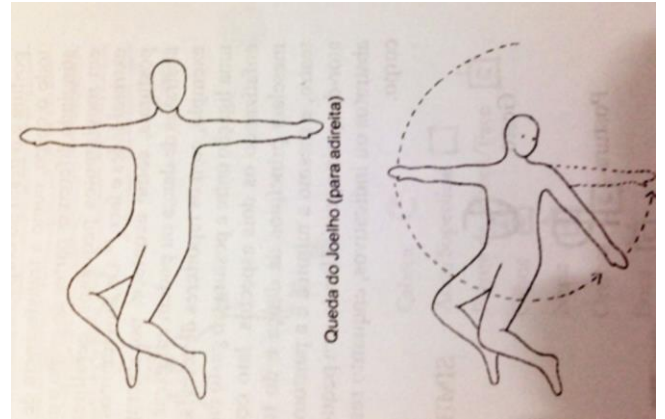
Você está examinando uma pasta no seu ambiente Windows e deseja saber se ela está com seus arquivos disponíveis para edição ou somente leitura. Nesse caso você clica na pasta com o botão direito do mouse e, em seguida seleciona “propriedades” e obterá então, a informação que deseja, na seguinte aba da tela que lhe será apresentada:

- (A) Geral.
- (B) Compartilhamento.
- (C) Segurança.
- (D) Propriedades.
- (E) Aplicar.

Conhecimentos Específicos**Questão 26**

A aprendizagem da dança com base na consciência corporal impede que vários acidentes aconteçam.

Apreciando os desenhos abaixo podemos afirmar que:



- (A) os joelhos estão hiperestendidos.
- (B) o corpo está em decúbito lateral.
- (C) o corpo está em decúbito ventral.
- (D) o quadríceps está contraindo as mãos.
- (E) o corpo está em decúbito dorsal.

Questão 27

A dança popular surgida por volta de 1870 reconhecida como a primeira grande contribuição das camadas populares do Rio de Janeiro à música do Brasil, que misturou elementos de lundu, polca e habanera e influenciou outros gêneros populares brasileiros identificada em alguns lugares como tango brasileiro denomina-se:

- (A) samba.
- (B) maxixe.
- (C) frevo.
- (D) marcha.
- (E) maracatu.

Questão 28

O (A) _____ surgiu em Nova Iorque nos anos 70 a partir da cultura Hip-Hop e chegou ao Brasil incorporando a cultura local nos seus movimentos e formas.

O termo que completa corretamente o trecho acima é:

- (A) dança contemporânea.
- (B) twist.
- (C) charleston.
- (D) breakdance.
- (E) samba.

Questão 29

O Maracatu é uma dança popular de origem afro-brasileira, típica do estado de Pernambuco. Surgiu em meados do século XVIII a partir da miscigenação das culturas portuguesa, indígena e africana. A disposição espacial dessa manifestação é a seguinte:

- (A) roda.
- (B) palco italiano.
- (C) cortejo.
- (D) pequenos grupos espalhados pelo espaço.
- (E) procissão religiosa.

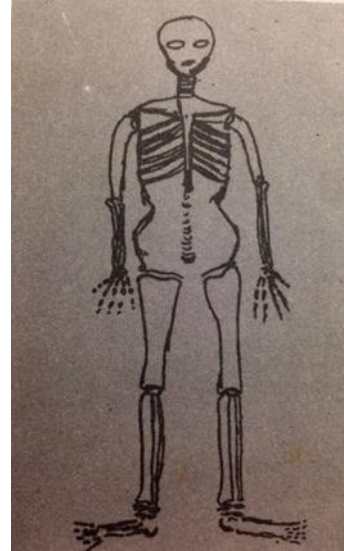
Questão 30

Como característica predominante das danças indígenas, encontra-se:

- (A) seu sentido ritualístico, celebrando momentos importantes da comunidade.
- (B) o acompanhamento por melodias românticas.
- (C) as cirandas com cantigas que falam da vida infantil.
- (D) seu caráter profano nas relações entre indivíduos da aldeia.
- (E) o êxodo das comunidades e seus trabalhos fora das aldeias.

Questão 31

Quando compreendemos que corpo e mente são uma coisa só, observamos que cada exercício praticado compõe um capítulo da nossa vasta teoria. Pensando no desenho abaixo, é correto afirmar que:



- (A) a consciência do corpo é de fora para dentro.
- (B) a postura correta não depende da rigidez muscular oblíqua.
- (C) a cintura pélvica não foi desenhada pelo aluno.
- (D) a patela é um músculo grande.
- (E) os pés devem ficar sempre “abertos para fora”.

Questão 32

A cinesiologia aplicada à dança estuda:

- (A) codificação de gestos.
- (B) performances coreográficas de vanguarda.
- (C) formas de escrita em dança.
- (D) as emoções oriundas do trabalho artístico.
- (E) o movimento, suas estruturas e implicações.

Questão 33

Descrição do exercício: Em 1ª posição em dehors, o bailarino inicia o exercício com degagé devant (à frente), desliza o pé pelo chão até a la seconde (ao lado) e, continuamente, até derrière (atrás). Fechando novamente a 1ª posição.

O nome que se dá ao exercício descrito é:

- (A) Rond de Jambe à terre en croix.
- (B) Rond de Jambe en l'air en croix.
- (C) Rond de Jambe à terre en dehors.
- (D) Rond de Jambe en l'air en dehors.
- (E) Rond de Jambe à terre en dedans.

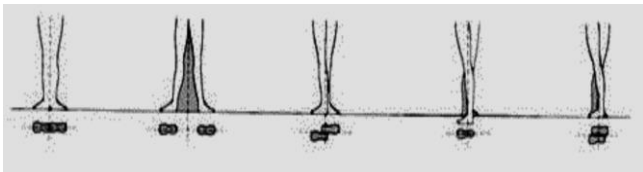
Questão 34

A alternativa que melhor define o exercício que chamamos de DEVELOPPÉ é:

- (A) Em 1ª posição em dehors, iniciar com retire passé e desenvolver a perna a 45° ou 90°, devant.
- (B) Em diagonal, girar continuamente, atentando à marcação de cabeça e à postura correta dos ombros e joelhos.
- (C) Em 1ª posição em dehors, iniciar com degagé à la seconde, fechar com plié em 1ª e equilibrar-se na meia-ponta.
- (D) Após o término do exercício e do balance, cruzar as pernas e fazer um meio-giro pela barra para iniciar o exercício do outro lado.
- (E) Em 1ª posição em dehors, iniciar com degagé devant e fechar deslizando o pé até a 1ª posição.

Questão 35

As figuras abaixo representam as cinco posições de pernas utilizadas na técnica do ballet clássico:



Nas aulas de ballet é comum que se faça exercícios de transição entre as cinco posições de pernas. O nome do passo que se usa para deslizar a perna de uma posição para a outra é:

- (A) devellopé.
- (B) temps levé.
- (C) pas de Chat.
- (D) demi plié.
- (E) degagé.

Questão 36

As cinco posições dos pés utilizadas no Balé Clássico foram criadas por:

- (A) Dalal Achcar.
- (B) Pierre Beauchamps.
- (C) Anna Pavlova.
- (D) Vaslav Nijinsky.
- (E) Luis XIV.

Questão 37

Seguindo as ideias de Noverre, com quem havia trabalhado na ópera de Paris, Jean Duberval (1742-1806) montou um balé pantomima, utilizando gestos e expressões faciais com muita dramaticidade. Se trata de um balé muito significativo para a história da dança e é considerado o balé mais antigo da história. Estamos falando da seguinte obra:

- (A) O Lago dos Cisnes.
- (B) Coppélia.
- (C) O Quebra Nozes.
- (D) La fille mal gardée.
- (E) Giselle.

Questão 38

Descrição da posição: Braços baixos. Esta posição é a atenção dos bailarinos. Os braços devem estar descontraídos, um pouco adiante do corpo e pouco dobrados nos cotovelos, com os dedos continuando a curvatura dos braços para criar um formato oval. Não se esqueça de relaxar os ombros, manter os polegares próximos dos outros dedos e procurar não mostrar as costas das mãos. Os braços devem ficar pendurados livremente, mas sem permitir que os cotovelos toquem no corpo. A nomenclatura correta para a posição descrita é:

- (A) port de Bras.
- (B) croisé devant.
- (C) bras bas.
- (D) bras devant.
- (E) arabesque.

Questão 39

A respeito do Balé “O Lago dos Cisnes” é correto afirmar que é um balé em:

- (A) 3 atos com música de Tchaikowsky, com coreografia de Marius Petipa e que teve sua primeira montagem na França.
- (B) 4 atos com música de Tchaikowsky, coreografia de Marius Petipa e Lev Ivanov e que teve sua primeira montagem na Rússia.
- (C) 4 atos com música de Minkus, coreografia de Lev Ivanov e que teve sua primeira montagem na Rússia.
- (D) 3 atos com música de Sergei Prokofiev, coreografia de Kenneth Mac Millan e que teve sua primeira montagem na Inglaterra.
- (E) 2 atos com música de Ludwig van Beethoven, com coreografia de Marius Petipa e que teve sua primeira montagem na Itália.

Questão 40

O Rei da França Luís XIV nutria grande paixão pela dança e por isso incentivou essa arte durante todo o seu reinado. Por inúmeros anos dançou no papel principal dos seus balés, desempenhando uma gama de personagens, sendo inclusive conhecido como o _____ justamente por sua atuação no Balé de la Nuit (A Noite). Sua vontade em estruturar o movimento corporal em regras marcou a história do balé, quando foi fundada, em 1661, a Academia Real de Dança.

A opção que completa o texto acima é:

- (A) “Rei da Noite”.
- (B) “Astro da Dança”.
- (C) “Grande Bailarino”.
- (D) “Rei Sol”.
- (E) “Criador da Dança Clássica”.