



PREFEITURA DE VILHENA / RO

AUXILIAR EM SAÚDE BUCAL

Código da Prova

F02 X
TARDE

 Verifique se o Código da Prova é o mesmo do seu cartão de respostas.

 Duração da prova: **3h30**

TRANSCREVA, EM ESPAÇO DETERMINADO NO SEU CARTÃO DE RESPOSTAS,
A FRASE ABAIXO PARA O EXAME GRAFOTÉCNICO:

**“Siga sempre em frente, não é possível voltar ao passado,
então, faça seu futuro!”**



ATENÇÃO

Este caderno contém quarenta questões de múltipla escolha, cada uma com cinco alternativas de resposta – A, B, C, D e E.

**Verifique se este material está em ordem. Caso contrário, notifique imediatamente o fiscal.
O tempo de duração da prova inclui o preenchimento do Cartão de Respostas.**

LEIA AS INSTRUÇÕES ABAIXO:

Siga, atentamente, a forma correta de preenchimento do Cartão de Respostas, conforme estabelecido no próprio. O Cartão de Respostas é personalizado, impossibilitando sua substituição.

Por motivo de segurança:

- O candidato só poderá retirar-se definitivamente da sala após 1 (uma) hora do início efetivo da prova.
- Somente faltando 1 (uma) hora para o término da prova, o candidato poderá retirar-se levando o seu Caderno de Questões.
- O candidato que optar por se retirar sem levar o seu Caderno de Questões não poderá copiar suas respostas por qualquer meio.
- Ao terminar a prova, o candidato deverá se retirar imediatamente do local, não sendo possível nem mesmo a utilização dos banheiros e/ou bebedouros.

Candidato, ao terminar a prova, é de sua responsabilidade entregar ao fiscal o Cartão de Respostas assinado. Não se esqueça dos seus pertences.

Os três últimos candidatos deverão permanecer na sala até que o último candidato entregue o Cartão de Respostas.

O fiscal de sala não está autorizado a alterar quaisquer dessas instruções. Em caso de dúvida, solicite a presença do coordenador local.

BOA PROVA!

LÍNGUA PORTUGUESA

Questão 1

De acordo com o Novo Acordo Ortográfico da Língua Portuguesa e com base na acentuação gráfica dos ditongos representados por *ei* e *oi* da sílaba tônica das palavras paroxítonas, a(s) palavra(s) grafada(s) corretamente é(são):

- I. oitenta.
- II. proteico.
- III. aldeia.
- IV. heróico.
- V. alcatéia.

Está(ão) correta(s):

- (A) somente I.
- (B) somente I e IV.
- (C) somente II, III, IV e V.
- (D) somente II e III.
- (E) I, II, III, IV e V.

Questão 2

A palavra grafada INCORRETAMENTE em relação ao uso de acento circunflexo é:

- (A) cortês.
- (B) avô.
- (C) você.
- (D) robô.
- (E) vôo.

Questão 3

Com relação ao uso de *ch* ou *x*, está correta a palavra:

- (A) cherife.
- (B) chícara.
- (C) xingar.
- (D) mechedor.
- (E) enchoval.

Questão 4

Palavras antônimas são palavras que apresentam um significado contrário na representação de uma ideia. Além de contrariedade e oposição, os antônimos podem também estabelecer correlação e complementaridade.

- I - A antonímia é habitualmente estabelecida entre palavras diferentes, com radicais diferentes, por exemplo, bom e mau.
- II - Os antônimos podem ser formados, também, por prefixos de negação, como: in-, des-, a-, por exemplo, atento e desatento.
- III - Os antônimos podem, ainda, ser representados por palavras que já apresentam prefixos cujos significados são contraditórios, por exemplo, infeliz como antônimo de feliz.

Está(ão) correta(s) apenas:

- (A) I.
- (B) II.
- (C) III.
- (D) I e II.
- (E) II e III.

Questão 5

Palavras homônimas são palavras que são pronunciadas da mesma forma, mas têm significados diferentes. Existem três tipos de homônimos:

- (A) homônimos perfeitos, homófonos e homógrafos.
- (B) homônimos perfeitos, homônimos imperfeitos e homógrafos.
- (C) homônimos perfeitos, homônimos imperfeitos e homófonos.
- (D) homônimos perfeitos, homócrologos e homógrafos.
- (E) homócrologos, homófonos e homógrafos.

Questão 6

Na regência verbal, se o verbo regente for transitivo direto, terá como termo regido um objeto direto (não preposicionado). Se o verbo regente for transitivo indireto, terá como termo regido um objeto indireto (preposicionado). Quando a regência verbal é estabelecida através de uma preposição, as mais utilizadas são: a, de, com, em, para, por, sobre.

Com base no texto apresentado, analise os sete itens.

- 1) simpatizar _____.
- 2) lembrar-se _____.
- 3) alertar _____.
- 4) comparecer _____.
- 5) convocar _____.
- 6) trocar _____.
- 7) visar _____.

Assinale a sequência correta das preposições.

- (A) 1) de / 2) com / 3) sobre / 4) em / 5) para / 6) por / 7) a.
- (B) 1) a / 2) de / 3) sobre / 4) em / 5) para / 6) por / 7) com.
- (C) 1) sobre / 2) de / 3) por / 4) em / 5) para / 6) com / 7) a.
- (D) 1) em / 2) com / 3) sobre / 4) de / 5) para / 6) por / 7) a.
- (E) 1) com / 2) de / 3) sobre / 4) em / 5) para / 6) por / 7) a.

Questão 7

Assinale a frase INCORRETA, considerando o uso de pronome.

- (A) Deu muito o que falar o romance da princesa com o magnata.
- (B) Ele deve ter muito que contar.
- (C) Daí por diante, teria muito que tirar de suas forças.
- (D) Agostinho ainda tinha muito que explicar a seu próprio respeito.
- (E) Nada tendo que fazer no povoado, só lhe restava mesmo dormir.

Questão 8

A definição de classes de palavras, para atender às necessidades de descrição dos processos de formação de palavras, deve corresponder a uma combinação de propriedades:

- (A) analíticas, propositivas e críticas.
- (B) analíticas, sintáticas e semânticas.
- (C) morfológicas, sintáticas e semânticas.
- (D) morfológicas, propositivas e críticas.
- (E) propositivas, sintáticas e semânticas.

Questão 9

Quanto à sua estrutura sintática, o período pode ter uma só oração independente ou várias unidades oracionais. Sendo assim, pela nomenclatura gramatical vigente e tradicional, é possível afirmar que há os períodos:

- (A) determinado e indeterminado.
- (B) horizontal e vertical.
- (C) simples e composto.
- (D) biunívocos e polifrasal.
- (E) realístico e ficcional.

Questão 10

“Um vulto cresce na escuridão. Clarissa se encolhe. É Vasco.” (Veríssimo, É. Clarissa. Porto Alegre: Globo, 1956, p. 188.)

Nesse trecho há três orações. Qual o sujeito de cada oração?

- (A) um vulto – Clarissa – sujeito oculto.
- (B) na escuridão – se encolhe – é Vasco.
- (C) um vulto – se encolhe – sujeito oculto.
- (D) um vulto – Clarissa – é Vasco.
- (E) cresce – Clarissa – Vasco.

Questão 11

Num período composto, normalmente estruturado, as orações se interligam mediante dois processos sintáticos universais:

- (A) a sintaxe e a semântica.
- (B) a coordenação e a subordinação.
- (C) o convexo e o oblíquo.
- (D) a coordenação e o oblíquo.
- (E) o convexo e a subordinação.

Questão 12

As três famílias de orações subordinadas são:

- (A) ativas – passivas – relativas.
- (B) ativas – passivas – adverbiais.
- (C) substantivas – ativas – passivas.
- (D) substantivas – relativas – ativas.
- (E) substantivas – adjetivas – adverbiais.

Questão 13

Analise as orações seguintes:

- 1) “O Brasil é um país de grandes riquezas, mas o padrão de vida do seu povo é um dos mais baixos do mundo”.
- 2) “O São Francisco é o rio da unidade nacional; ele banha vários estados do Brasil e depois deságua no Atlântico”.
- 3) Embora o Rio de Janeiro seja um município de muita beleza, a mortalidade dos moradores de comunidades é um dos mais altos do Brasil”.
- 4) “Embora o Brasil seja um país de grandes riquezas, o padrão de vida do seu povo é um dos mais baixos do mundo”.
- 5) “O São Francisco, que é o rio da unidade nacional, banha vários estados do Brasil e depois deságua no Atlântico”.
- 6) “O Rio de Janeiro é um município de muita beleza, mas a mortalidade dos moradores de comunidades é um dos mais altos do Brasil”.

Considerando os processos sintáticos, subordinação e coordenação, a sequência correta é:

- (A) 1) coordenação; 2) coordenação; 3) subordinação; 4) subordinação; 5) subordinação; 6) coordenação.
- (B) 1) coordenação; 2) subordinação; 3) subordinação; 4) subordinação; 5) subordinação; 6) coordenação.
- (C) 1) subordinação; 2) coordenação; 3) subordinação; 4) subordinação; 5) subordinação; 6) coordenação.
- (D) 1) subordinação; 2) subordinação; 3) coordenação; 4) coordenação; 5) coordenação; 6) subordinação.
- (E) 1) coordenação; 2) coordenação; 3) subordinação; 4) subordinação; 5) coordenação; 6) coordenação.

Questão 14

Existem diversas figuras de linguagem. Estão subdivididas em: figuras de palavra, figuras de construção, figuras de pensamento e figuras de som. Entre as figuras de pensamento estão:

- (A) catacrese – hipérbole – silepse – apóstrofe.
- (B) catacrese – hipérbole – prosopopeia – silepse.
- (C) antítese – sinédoque – onomatopeia – apóstrofe.
- (D) antítese – hipérbole – prosopopeia – apóstrofe.
- (E) onomatopeia – catacrese – sinédoque – silepse.

Questão 15

A voz verbal indica se o sujeito gramatical é agente ou paciente da ação expressa pelo verbo. Existem três vozes do verbo ou vozes verbais no português. São elas:

- (A) relativa, subordinada e predominante.
- (B) predominante, relativa e reflexiva.
- (C) ativa, predominante e relativa.
- (D) subordinada, predominante e reflexiva.
- (E) ativa, passiva e reflexiva.

RACIOCÍNIO LÓGICO QUANTITATIVO

Questão 16

A frase que NÃO corresponde à verdade é:

- (A) o Brasil fica na Europa ou o Flamengo do Rio de Janeiro tem a maior torcida de futebol.
- (B) periquito come milho.
- (C) Brasil fica na América do Sul e produz café.
- (D) Portugal faz fronteira com a Rússia e sua capital é Lisboa.
- (E) o Inverno tem temperaturas menores que o Verão.

Questão 17

Se o meu carro tem o consumo de combustível de 10 Km/litro e o seu tanque tem a capacidade de 50 litros:

- (A) com um tanque cheio posso rodar 800 Km.
- (B) com meio tanque posso rodar 200 Km.
- (C) posso ir e voltar de carro até uma cidade que fica distante 300 Km sem abastecer.
- (D) posso rodar sem problemas mesmo com o tanque na reserva pois deve ter postos de abastecimentos no trajeto.
- (E) com um tanque cheio posso rodar 1200 Km.

Questão 18

João é pai natural de Antônio. João tem 60 anos e seu irmão José é mais moço 40 anos. Qual proposição é INCORRETA?

- (A) José pode ser mais novo ou não que Antônio
- (B) Quando José nasceu João não tinha 15 anos
- (C) Antônio pode ter nascido quando João tinha 11 anos ou mais
- (D) João é mais velho que José acima de 20 anos
- (E) Antônio tem que ser mais novo que João

Questão 19

Na cantina há um bebedouro onde se usam galões de 20 litros. Cada pessoa consome em média 1,5 de água por dia e na empresa tem 150 funcionários. Quantos galões devem ser comprados, no mínimo, por mês?

- (A) 10
- (B) 20
- (C) 12
- (D) 19
- (E) 22

Questão 20

Maria pode pegar papel para a impressora porque:

- (A) se ela sabe onde fica o armário com o papel da impressora, sabe qual é o papel próprio.
- (B) ou ela sabe onde está o armário em que o papel está ou não sabe qual o papel usado na impressora.
- (C) ela tem a chave do armário em que o papel próprio está e sabe o qual o tipo de papel necessário.
- (D) ela sabe qual papel é utilizado na impressora.
- (E) ela acha que qualquer papel é próprio para a impressora.

Questão 21

Nestas proposições lógicas, a INCORRETA é:

- (A) pode-se ir de carro de Pernambuco a Salvador.
- (B) água na nascente de um rio é doce ou salobra.
- (C) Câmara dos Vereadores faz leis estaduais.
- (D) Belém fica no estado do Pará ou no Amazonas.
- (E) a Lua é um satélite da Terra.

Questão 22

Qual proposição é incorreta?

- (A) O gato corre ou o canário canta
- (B) O gato não corre e o canário canta
- (C) O gato não corre ou o canário não canta
- (D) O gato corre ou o canário não canta
- (E) Tanto o gato corre como o canário canta

Questão 23

Você está encarregado por compras da oficina da empresa. Existem 3 fornecedores de estopa. Fornecedor A vende pacotes de 2 Kg custando R\$ 9,00 cada. O fornecedor B vende pacotes de 3 Kg custando R\$ 11,00 cada e o fornecedor C vende pacotes de 4 Kg custando R\$ 14,00 cada. Qual a melhor compra, a ser efetuada com R\$ 400,00 de um único fornecedor?

- (A) Fornecedor A por ter o melhor preço por pacote
- (B) Fornecedor B por ter pacotes de 3 Kg
- (C) ou do Fornecedor A ou do Fornecedor B
- (D) Fornecedor C por ter melhor custo/benefício
- (E) não pode ser do Fornecedor C pois tem o pacote mais caro

Questão 24

Qual a proposição correta?

- (A) É possível cultivar alface se tiver terreno disponível
- (B) É possível cultivar alface em um terreno se e somente se tiver água para a irrigação
- (C) É possível cultivar alface mesmo sem água
- (D) É possível cultivar alface com terreno ou água
- (E) Não se pode cultivar alface com água

Questão 25

Luis não é motorista ou João nasceu no Pará. Em lógica significa o mesmo que:

- (A) se Luis é motorista, então João nasceu no Pará.
- (B) se João nasceu no Pará, então Luis é motorista.
- (C) se Luis é motorista, então João não nasceu no Pará.
- (D) se Luis não é motorista, então João não nasceu no Pará.
- (E) se Luis não é motorista, então João nasceu no Pará.

Questão 26

O gavião voa porque tem asas. O balão de ar quente voa e não tem asas. Pode-se concluir que:

- (A) não é necessário ter asas para voar.
- (B) toda ave que tem asas voa.
- (C) o balão de ar quente voa de uma forma diferente do que o gavião.
- (D) gavião voa para caçar e o balão de ar quente também.
- (E) O gavião não voa porque tem asas.

Questão 27

Jonas é pintor ou Pedro é pedreiro. Então:

- (A) Jonas só pode ser pintor se Pedro for pedreiro.
- (B) Jonas pode ser pintor mesmo que Pedro não seja pedreiro.
- (C) Pedro é pedreiro somente se Jonas for pintor.
- (D) Jonas não pode ser pintor se Pedro não for pedreiro.
- (E) para Jonas ser pintor, necessariamente Pedro tem que ser pedreiro.

Questão 28

Assinale a Proposição INCORRETA.

- (A) O boi é pesado embora o bode não seja tão pesado
- (B) O boi é mais pesado que o bode
- (C) O bode precisa de menos pasto que o boi então são menos pesados que os bois
- (D) Bodes são mais leves que o boi ambos em seu estado adulto
- (E) Um bode adulto sempre será mais pesado que um boi

Questão 29

Maria gosta de sorvete de Cajá e José gosta de suco de Graviola. Qual seria a PROPOSIÇÃO NEGATIVA dessa anterior?

- (A) Maria não gosta de sorvete de Cajá e José não gosta de suco de Graviola
- (B) Maria não gosta de sorvete de Cajá então José não gosta de suco de Graviola
- (C) Maria não gosta de sorvete de Cajá porque José não gosta de suco de Graviola
- (D) Maria não gosta de sorvete de Cajá ou José não gosta de suco de Graviola
- (E) Maria não gosta de sorvete de Cajá apesar de José não gostar de suco de Graviola

Questão 30

João comprou um carro no valor no valor de R\$ 90.000,00. Deu seu carro antigo de valor R\$ 35.000,00 de entrada e financiou o saldo em 10 prestações iguais sem correção.

O valor da prestação é:

- (A) R\$ 4.800,00.
- (B) R\$ 6.500,00.
- (C) R\$ 5.500,00.
- (D) R\$ 8.500,00.
- (E) R\$ 10.500,00.

CONHECIMENTOS ESPECÍFICOS

Questão 31

A confecção de modelos de estudos é uma prática recomendada que facilita o estabelecimento do plano de tratamento.

Assinale a opção CORRETA que explicita o material de moldagem e o tipo de gesso mais indicados para a confecção de um modelo de estudo.

- (A) Alginato e IV
- (B) Alginato e II
- (C) Silicone de adição e IV
- (D) Silicone de condensação e I
- (E) Silicone de condensação e IV

Questão 32

O conhecimento dos instrumentais e materiais odontológicos é essencial para o bom funcionamento do ambiente de trabalho odontológico.


São instrumentais utilizados em procedimentos cirúrgicos de extração dentária os seguintes instrumentos abaixo, EXCETO:

- (A) alavanca reta.
- (B) fórceps.
- (C) pinça porta agulha.
- (D) pinça porta grampo.
- (E) tesoura hemostática.

Questão 33

A técnica de revelação manual de radiografias exige o seguimento de uma ordem de imersão do filme radiográfico nos diferentes líquidos necessários neste processo.

A imagem a seguir representa uma vista superior de uma caixa de revelação radiográfica manual, composta por três recipientes.



Qual o líquido que deveria estar presente em cada recipiente, respectivamente, começando da esquerda para direita de quem vê?

- (A) Água, removedor e fixador
- (B) Removedor, revelador e fixador
- (C) Revelador, água e fixador
- (D) Água, fixador e revelador
- (E) Revelador, fixador e água

Questão 34

A respeito do exercício profissional do Auxiliar em Saúde Bucal está INCORRETO afirmar que este profissional:

- (A) é obrigado a se registrar no Conselho Federal de Odontologia e a se inscrever no Conselho Regional de Odontologia em cuja jurisdição exerça suas atividades.
- (B) é proibido de exercer a atividade profissional de forma autônoma.
- (C) pode prestar assistência, direta ou indireta, a paciente, sem a supervisão do Cirurgião Dentista ou do Técnico de Saúde Bucal.
- (D) pode desenvolver ações de promoção da saúde e prevenção de riscos ambientais e sanitários.
- (E) é proibido de fazer propaganda de seus serviços, mesmo em revistas, jornais ou folhetos especializados da área odontológica.

Questão 35

Para a realização do atendimento odontológico é necessário adoção de medidas de precaução-padrão, para prevenir e controlar os riscos à saúde. São medidas que devem ser adotadas no atendimento a todos os pacientes, EXCETO:

- (A) preencher as caixas de descarte até a sua capacidade total.
- (B) realizar o transporte dos resíduos com cautela.
- (C) não utilizar agulhas para fixar papéis em murais.
- (D) realizar a limpeza, desinfecção e/ou esterilização dos artigos antes de serem estes utilizados em outro paciente.
- (E) manipular cuidadosamente os materiais perfuro-cortantes.

Questão 36

O gerenciamento de resíduos é um processo que deve ser realizado de forma racional e adequada, inclusive em serviços de saúde. Os resíduos gerados na Odontologia são classificados em cinco tipos: A, B, C, D e E. Trata-se de uma forma INCORRETA de manejo do resíduo tipo E:

- (A) deve ser descartado separadamente, no local de sua geração.
- (B) fazer acondicionamento em saco preto constituído de material resistente a ruptura e vazamento.
- (C) é proibido o esvaziamento para reaproveitamento do seu recipiente.
- (D) deve ser manipulado com cautela.
- (E) é identificado pelo símbolo de substância infectante.

Questão 37

O Sistema Único de Saúde é constituído pela conjugação das ações e serviços de promoção, proteção e recuperação da saúde executados pelos entes federativos, de forma direta ou indireta, mediante a participação complementar da iniciativa privada, sendo organizado de forma regionalizada e hierarquizada. Para garantir o acesso universal, igualitário e ordenado às ações e serviços de saúde do SUS, os entes federativos devem:

- I - ofertar regionalmente as ações e os serviços de saúde.
- II - orientar e ordenar os fluxos das ações e dos serviços de saúde.
- III - garantir a transparência, a integralidade e a equidade no acesso às ações e aos serviços de saúde.
- IV - monitorar o acesso às ações e aos serviços de saúde.
- V - indicar no máximo cinco parentes de primeiro grau para ocupar cargos na administração direta sob a sua subordinação.

Estão corretas:

- (A) somente I e II.
- (B) somente II e III.
- (C) somente I, II e III.
- (D) somente I, II, III e IV.
- (E) I, II, III, IV e V.

Questão 38

A utilização efetiva do Sistema de Informação de Agravos de Notificação (SINAN) permite a realização de um diagnóstico dinâmico da ocorrência de um evento na população. São consideradas doenças de notificação compulsória semanal:

- (A) febre tifóide e febre amarela.
- (B) doença aguda pelo vírus zika e febre purpúrica brasileira.
- (C) óbito materno e sarampo.
- (D) esquistossomose e infecção pelo vírus da imunodeficiência humana (HIV).
- (E) rubéola e óbito infantil.

Questão 39

O objetivo do Sistema de Informações Hospitalares do Sistema Único de Saúde (SIH-SUS) é registrar todos os atendimentos provenientes de internações hospitalares financiados pelo SUS. A Autorização de Internação Hospitalar (AIH) é o instrumento de registro dos procedimentos do SIH-SUS. Assinale a alternativa que apresenta o procedimento odontológico com instrumento de registro exclusivo AIH.

- (A) Curativo de demora com ou sem preparo biomecânico
- (B) Tratamento odontológico para pacientes com necessidades especiais
- (C) Exodontia de dente permanente
- (D) Biópsia dos tecidos moles da boca
- (E) Selamento provisório de cavidade dentária

Questão 40

O Sistema de Cadastro Nacional de Estabelecimentos de Saúde (SCNES) é o sistema de informação oficial de cadastramento de informações acerca de todos os estabelecimentos de saúde do país, independentemente de sua natureza jurídica ou integração com o Sistema Único de Saúde. Para a Estratégia Saúde da Família, a inclusão do campo "INE" permite um monitoramento estratégico das ações realizadas no território, pois este significa:

- (A) investigação Nacional de Estabelecimentos.
- (B) informação Nacional de Equipe.
- (C) informação Nacional de Estabelecimentos.
- (D) identificador Normativo das Equipes.
- (E) identificador Nacional de Equipe.